


Escola:	Data:
Professor(a):	Turma:
Aluno:	

Mais atividades e Materiais: <https://desafiosmate.com.br/>

Questão 1. Vovó fez este bordado num lenço. Ela quer bordá-lo num pano de prato que é três vezes maior que o lenço. Para isso, as medidas do bordado serão.



- (A) multiplicar por 3
- (B) subtraídas por 3
- (C) divididas por 3
- (D) multiplicadas por 6

Questão 2. Meu tio comprou uma bicicleta para pagar um 30 meses. Quanto tempo meu tio levará para terminar de pagar a bicicleta?

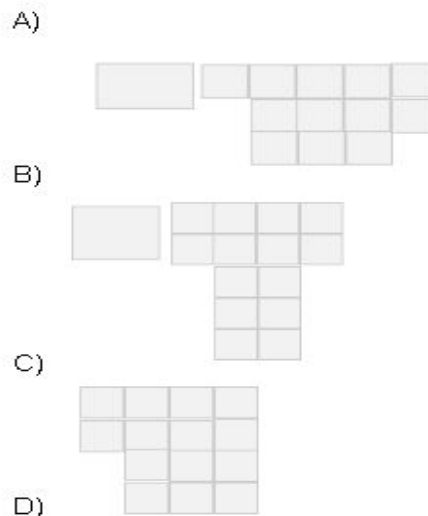
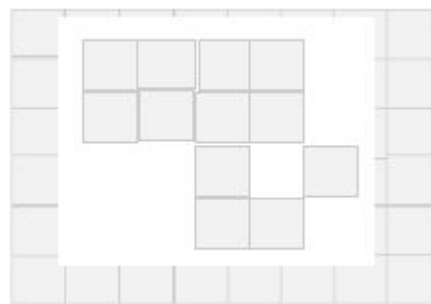
- (A) 1 ano.
- (B) 1 ano e meio.
- (C) 2 anos e meio.
- (D) 3 anos.

Questão 3. quando Duda entrou na aula de inglês, o relógio marcava:

A aula durou 30 minutos. Que horário o relógio estava marcando quando a aula acabou?

- (A) 13 horas
- (B) 13 horas e 30 minutos
- (C) 13 horas e 55 minutos
- (D) 14 horas

Questão 4. Marcos mandou colocar cerâmica em seu quarto. Ele já utilizou todas as cerâmicas que ele tinha de acordo com a figura.



- (A) figura A.
- (B) figura B.
- (C) figura C.
- (D) figura D.

Questão 5. O mercantil de Seu José recebeu 5 caixas de 1000 bananas, 3 caixas de 100 caju, 8 caixas de 10 maçãs e 4 abacaxis. Quantas frutas Seu José recebeu?

- (A) 538
- (B) 1.184
- (C) 5.384
- (D) 53.840

<https://desafiosmate.com.br/>

NOSSOS BLOGS - MATERIAIS PARA EDUCAÇÃO

Sala de Aula: <https://desafiosmate.com.br/> Concursos/seleções: <https://questoesconcursopedagogia.com.br/>

Cursos gratuitos: <https://superpreparadocursos.com.br/>

Questão 6. Tereza vai fazer esta subtração:

$$568 - 27 =$$

O resultado dessa operação será.

- (A) 595
- (B) 541
- (C) 441
- (D) 41

Questão 7. Marcos fez a multiplicação abaixo. Qual resultado Marcos 3×535 ?

- (A) 1.565
- (B) 1.595
- (C) 1.605
- (D) 1.695

Questão 8. Paulo tinha 47 figurinhas. Ele perdeu uma dúzia delas no caminho. Na escola, ele ganhou mais 5 de um amigo. Quantas figurinhas Paulo têm agora?

- (A) 64
- (B) 52
- (C) 59
- (D) 40

Questão 9. Henrique tinha 35 selos colados em seu álbum. Clarinha tinha 15 a mais que Henrique. Quantos selos Clarinha tinha em seu álbum?

- (A) 20
- (B) 52
- (C) 59
- (D) 50

Questão 10. Marta tem 16 anos. Sabendo que sua mãe tem o dobro da idade de Marta, quantos anos têm a mãe de Marta?

- (A) 22 anos.
- (B) 32 anos.
- (C) 42 anos.
- (D) 50 anos.

Questão 11. Dois abacaxis custam R\$ 2,50. Quanto pagarei por 4 desses abacaxis?

- (A) R\$ 4,50
- (B) R\$ 5,00
- (C) R\$ 10,00
- (D) R\$ 20,00

Questão 12. Julia tem, em sua bolsa, duas moedas de R\$ 0,05, quatro moedas de R\$ 0,10 e seis moedas de R\$ 0,25. Que quantia Julia tem na bolsa.

- (A) 1,00
- (B) 1,50
- (C) 2,00
- (D) 2,50

Questão 13. Laura fez uma torta e repartiu com seus amigos. Jorge comeu 2 pedaços, Nina com 1 pedaço, Silvio comeu 3 pedaços e Claudia não comeu nenhum. Sabendo-se que a torta foi dividida em 12 pedaços iguais, que parte da torta foi consumida?

- (A) $1/12$
- (B) $1/6$
- (C) $1/4$
- (D) $1/2$

Questão 14. Em Salvador ontem a temperatura máxima foi de 35,4 graus e, em Fortaleza, foi de 38,2 graus. De quantos graus é a diferença de temperatura entre as cidades?

- (A) 2,8 graus
- (B) 2,2 graus
- (C) 3,2 graus
- (D) 3,8 graus

FAÇA COM ATENÇÃO!

<https://desafiosmate.com.br/>

NOSSOS BLOGS - MATERIAIS PARA EDUCAÇÃO

Sala de Aula: <https://desafiosmate.com.br/>

Concursos/seleções: <https://questoesconcursopedagogia.com.br/>

Cursos gratuitos: <https://superpreparadocursos.com.br/>

Nossos Sites e Blogs na Área de Educação:

Concursos e Seleções

<https://questoesconcursopedagogia.com.br/>

Materiais de Sala de Aula - 1 ao 5 ano

<https://desafiosmate.com.br/>

Cursos Gratuitos de Aperfeiçoamento e Qualificação

<https://superpreparadocursos.com.br/>

Mais atividades Como Essas, Acesse



Nossas Mídias

Página no Facebook:

<https://www.facebook.com/desafiosmaticossaladeaula/>

Nosso Grupo no Facebook

<https://www.facebook.com/groups/467814469928014/>

Nosso Canal no Youtube:

<https://www.youtube.com/channel/UCZ3D5VBLZW1lacEE89nMJgg>

<https://desafiosmate.com.br/>

NOSSOS BLOGS - MATERIAIS PARA EDUCAÇÃO

Sala de Aula: https://desafiosmate.com.br/	Concursos/seleções: https://questoesconcursopedagogia.com.br/
Cursos gratuitos: https://superpreparadocursos.com.br/	