

Escola: \_\_\_\_\_

Professor: \_\_\_\_\_ Turma: \_\_\_\_\_ Turno: \_\_\_\_\_

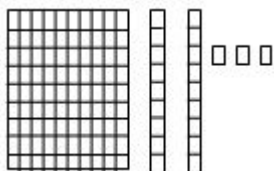
Aluno: \_\_\_\_\_

1. Marque a opção que representa o número

**CENTO E VINTE NOVE**

- (A) 190
- (B) 129
- (C) 109
- (D) 29

2. Observe o material dourado.



Qual o número representado?

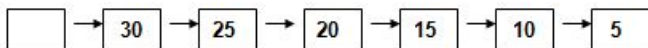
- (A) 321
- (B) 213
- (C) 132
- (D) 123

3. O número que representa a quantidade de **balões** é



- (A) 17
- (B) 15
- (C) 13
- (D) 11

4. O **primeiro** número da seqüência é



- (A) 45
- (B) 35
- (C) 25
- (D) 15

5. No número **259** o algarismo **9** representa:

- (A) 9 unidades
- (B) 9 dezenas
- (C) 90 unidades
- (D) 90 dezenas

6. A decomposição do número **107** é

- (A)  $100 + 7$
- (B)  $100 + 70$
- (C)  $700 + 1$
- (D)  $70 + 1$

7. Márcio tem 11 anos. Seu tio tem 57. Quantos anos o tio de Márcio tem a mais que ele?

- (A) 68
- (B) 46
- (C) 38
- (D) 26

8. O resultado do cálculo **45 + 23** é:

- (A) 48
- (B) 58
- (C) 68
- (D) 78

9. Observe a sala de aula de André:



O estudante que está mais distante da porta é

- (A) Júlia.
- (B) Maria.
- (C) Ana.
- (D) João.

10. Lucas tem 17 bombons. João tem 10. João tem a menos que Lucas:

- (A) 10 bombons
- (C) 17 bombons
- (B) 7 bombons

**NOSSOS BLOGS - MATERIAIS PARA EDUCAÇÃO**


Sala de Aula: <https://desafiosmate.com.br/>

Concursos/seleções: <https://questoesconcursopedagogia.com.br/>

Cursos gratuitos: <https://superpreparadocursos.com.br/>

(D) 3 bombons

11. Observe o desenho das crianças.



Quem está entre Ana e Léo?

- (A) Pedro
- (B) Ana
- (C) Rui
- (D) Maria

12. A decomposição  $200 + 70 + 1$  é representada pelo número:

- (A) 71
- (B) 201
- (C) 270
- (D) 271

13. Observe o desenho da casa abaixo.



O número representado acima é:

- (A) cento e sessenta e três
- (B) sessenta e três
- (C) cento e três
- (D) seiscentos e três

14. Marcelo fez a seguinte planta da sua sala de aula:

QUADRO NEGRO				
		PROFESSORA		
	MARCELO	TIAGO		LUIZA
	CAIO	MARIA		BRUNA
	TANIA	RODRIGO		RAFAEL

Das crianças que se sentam perto da janela, a que se senta mais longe da professora é

- (A) o Marcelo
- (B) o Rafael
- (C) a Luiza
- (D) a Tânia

15. A distância da casa de Manuela até o ponto de ônibus é **maior que** 95m e **menor que** 150m. Essa distância poderá ser de:

- (A) 95m
- (B) 99m
- (C) 155m
- (D) 180m

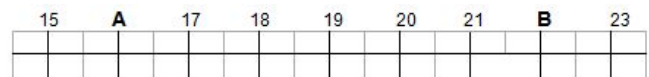
16. Um álbum é formado por 180 figurinhas sobre atletas brasileiros. O número de figurinhas de atletas de cada esporte está mostrado na tabela:

ESPORTE	Nº DE FIGURINHAS
Vôlei	18
Basquete	22
Iatismo	15
Futebol	99
Tênis	8
Remo	18

O esporte com menor número de atletas no álbum de figurinha é


- (A) basquete
- (B) tênis
- (C) iatismo
- (D) futebol

17. Na reta numerada, os pontos **A** e **B** representam respectivamente:



- (A) 16 e 281
- (B) 16 e 23
- (C) 16 e 22
- (D) 15 e 23

18. A quantidade de bolas do próximo quadro é:



- (A) 6
- (B) 12
- (C) 18
- (D) 24

19. O resultado do cálculo  $358 - 124$  é:

C	D	U

- (A) 134
- (B) 234
- (C) 364
- (D) 463

20. Paulo fez a seguinte subtração:  $478 - 156$ . Sabendo que Paulo acertou o resultado, identifique o valor encontrado por ele.

- (A) 534
- (B) 522
- (C) 322
- (D) 122

Nossos Sites e Blogs na Área de Educação:

Concursos e Seleções

<https://questoesconcursopedagogia.com.br/>

Materiais de Sala de Aula - 1 ao 5 ano

<https://desafiosmate.com.br/>

Cursos Gratuitos de Aperfeiçoamento e Qualificação

<https://superpreparadocursos.com.br/>

Mais atividades Como Essas, Acesse



Nossas Mídias

Página no Facebook:

<https://www.facebook.com/desafiosmatematicossaladeaula/>

Nosso Grupo no Facebook

<https://www.facebook.com/groups/467814469928014/>

Nosso Canal no Youtube:

<https://www.youtube.com/channel/UCZ3D5VBLZW1lacEE89nMJgg>

NOSSOS BLOGS - MATERIAIS PARA EDUCAÇÃO

Sala de Aula: <https://desafiosmate.com.br/>

Concursos/seleções: <https://questoesconcursopedagogia.com.br/>

Cursos gratuitos: <https://superpreparadocursos.com.br/>