

Escola:	Data:
Professor(a):	Turma:
Aluno:	

Mais atividades e Materiais: <https://desafiosmate.com.br/>

### Atividade Subtração com números até 10

**Questão 1.** Resolva as continhas abaixo, e marque a alternativa correta.

$$\begin{array}{r} 5 \\ - 4 \\ \hline \end{array} \quad \begin{array}{r} 3 \\ - 1 \\ \hline \end{array} \quad \begin{array}{r} 2 \\ - 1 \\ \hline \end{array}$$


- (A) 9,4 e 3
- (B) 8,4 e 3
- (C) 9,5 e 3
- (D) 7,4 e 2

**Questão 2.** Conte nos dedinhos e responda, qual a alternativa correta.

$$\begin{array}{r} 5 \\ - 5 \\ \hline \end{array} \quad \begin{array}{r} 9 \\ - 2 \\ \hline \end{array} \quad \begin{array}{r} 6 \\ - 1 \\ \hline \end{array}$$

- (A) 10,10 e 7
- (B) 11,10 e 9
- (C) 10,11 e 7
- (D) 12,9 e 8

**Questão 3.** Ajude Ana com a continha abaixo. Ana tinha 7 maçãs comeu 2. Quantas maçãs ficaram?



- (A) 3
- (B) 4
- (C) 5
- (D) 6

**Questão 4.** Maria comprou um buquê com 8 flores pra sua mãe. Mas no caminho pra casa murcharam 3 flores. Quantas flores ficaram no buquê?



- (A) 4 flores
- (B) 5 flores
- (C) 6 flores
- (D) 7 flores

**Questão 5.** José tem um pé de maçã no quintal de encasa. Ontem tinha 8 maçã e hoje ele foi colher só tinha 4. Quantas maçãs caíram?



- (A) 2
- (B) 3
- (C) 4
- (D) 5


### NOSSOS BLOGS - MATERIAIS PARA EDUCAÇÃO

Sala de Aula: <https://desafiosmate.com.br/>

Concursos/seleções: <https://questoesconcursopedagogia.com.br/>

Cursos gratuitos: <https://superpreparadocursos.com.br/>

**Questão 6.** No aniversário de Pedro tinham 7 velas acesas. Na hora de cantar parabéns ele apagou 6 velas. Quantas velas ainda falta apagar?




- (A) 5
- (B) 4
- (C) 3
- (D) 1

**Questão 7.** Laura estava caçando borboletas ela avistou 10. Conseguiu pegar 6. Quantas Borboletas ela não pegou?




- (A) 2
- (B) 3
- (C) 4
- (D) 5

**Questão 8.** Lucas ganhou 3 balões mas chegando encasa deu 2 pra sua irmã. Quantos balões sobraram?




- (A) 1
- (B) 2
- (C) 3
- (D) 4

**Questão 9.** No zoológico do Rio de Janeiro tinha 4 elefantes. Mas 1 ficou doente e morreu. Quantos elefantes sobraram?



- (A) 1
- (B) 3
- (C) 4
- (D) 5

**Questão 10.** Ajude as meninas a resolver as continhas abaixo:



- (A) 0 e 1
- (B) 0 e 2
- (C) 0 e 4
- (D) 0 e 3

## GABARITO

[CLIQUE AQUI](#)

**Nossos Sites e Blogs na Área de Educação:**

**Concursos e Seleções**

<https://questoesconcursopedagogia.com.br/>

**Materiais de Sala de Aula - 1 ao 5 ano**

<https://desafiosmate.com.br/>

**Cursos Gratuitos de Aperfeiçoamento e Qualificação**

<https://superpreparadocursos.com.br/>

**Nossas Mídias**

**NOSSOS BLOGS - MATERIAIS PARA EDUCAÇÃO**

Sala de Aula: <https://desafiosmate.com.br/>

Concursos/seleções: <https://questoesconcursopedagogia.com.br/>

Cursos gratuitos: <https://superpreparadocursos.com.br/>

**Página no Facebook:**

<https://www.facebook.com/desafiosmaticossaladeaula/>

**Nosso Grupo no Facebook**

<https://www.facebook.com/groups/467814469928014/>

**Nosso Canal no Youtube:**

<https://www.youtube.com/channel/UCZ3D5VBLZW1lacEE89nMJgg>

#### **NOSSOS BLOGS - MATERIAIS PARA EDUCAÇÃO**

**Sala de Aula:** <https://desafiosmate.com.br/>

**Concursos/seleções:** <https://questoesconcursopedagogia.com.br/>

**Cursos gratuitos:** <https://superpreparadocursos.com.br/>