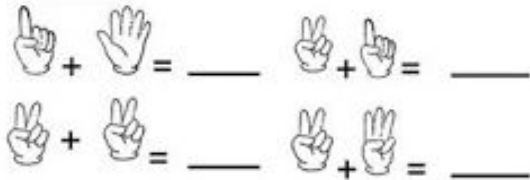


Escola:	Data:
Professor(a):	Turma:
Aluno:	

Mais atividades e Materiais: <https://desafiosmate.com.br/>

Atividade sobre Adição com números até 10

Questão 1. Vamos contar com os dedinhos.



Marque a alternativa correta:

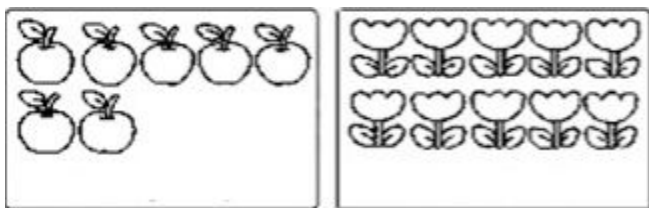
- (A) 6,3,4 e 5
- (B) 7,3,5 e 8
- (C) 8,7,6 e 5
- (D) 2,3,4 e 5

Questão 2. Resolva as continhas abaixo.

Marque a alternativa correta:

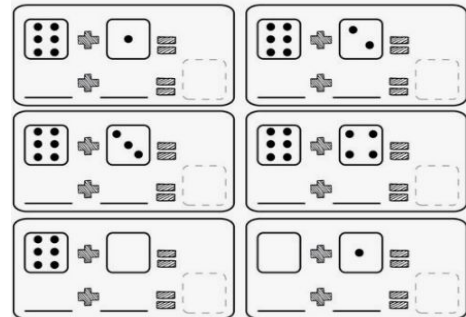
- (A) 2,3 e 5
- (B) 4,2 e 6
- (C) 3,8 e 4
- (D) 5,6 e 5

Questão 3. Conte as figuras e marque alternativa correta:




- (A) 8 e 9
- (B) 7 e 10
- (C) 7 e 9
- (D) 7 e 8

Questão 4. Conte com dados e marque a alternativa correta abaixo:



- (A) 7,8,9,10,6 e 1
- (B) 5,6,7,8,10 e 3
- (C) 6,7,8,9,10 e 2
- (D) 7,8,9,10,6, e 1

Questão 5. Contes os bichinhos abaixo:



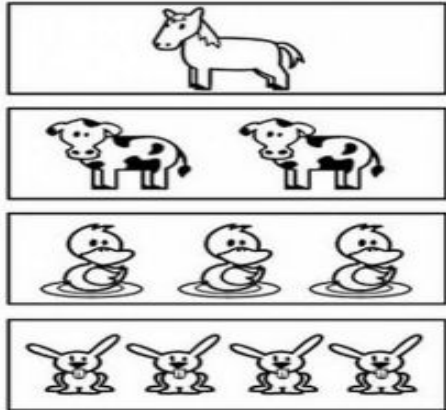
Agora marque a alternativa correta:

- (A) 8 Joaninhas, 4 Ovelhas e 2 Elefantes
- (B) 7 Joaninhas, 5 Ovelhas e 3 Elefantes
- (C) 8 Joaninhas, 7 Ovelhas e 1 Elefantes
- (D) 9 Joaninhas, 4 Ovelhas e 2 Elefantes

NOSSOS BLOGS - MATERIAIS PARA EDUCAÇÃO


Sala de Aula: https://desafiosmate.com.br/	Concursos/seleções: https://questoesconcursopedagogia.com.br/
Cursos gratuitos: https://superpreparadocursos.com.br/	

Questão 6. Conte quantos animais tem e marque a alternativa correta abaixo:



- (A) 3 cavalo, 3 vacas, 6 patos e 4 coelhos
- (B) 1 cavalo, 2 vacas, 3 patos e 4 coelhos
- (C) 2 cavalo, 2 vacas, 4 patos e 4 coelhos
- (D) 1 cavalo, 2 vacas, 5 patos e 6 coelhos


Questão 7. Veja e conte os patinhos abaixo.



Agora marque a alternativa dos números que faltam:

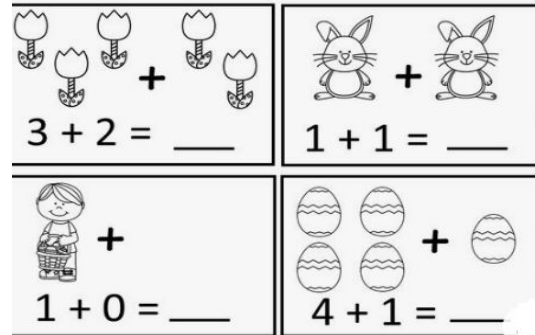
- (A) 1,7,5 e 3
- (B) 2,6,5 e 4
- (C) 3,8,7 e 6
- (D) 2,7,6 e 5

Questão 8. Ajude a formiguinha a resolver as contas abaixo:



- (A) 10,8,9,7,8,7,9 e 10
- (B) 12,8,9,7,8,7,9 e 13
- (C) 10,8,9,6,8,7,8 e 14
- (D) 10,5,9,6,8,7,9 e 11

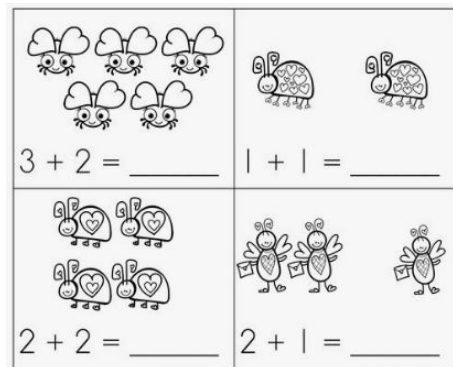
Questão 9. Resolva as continhas abaixo.



Marque a alternativa correta:

- (A) 5,2,1 e 6
- (B) 4,2,1 e 7
- (C) 5,2,1 e 5
- (D) 6,2,2 e 6

Questão 10. Resolva as continhas de adição abaixo:



Marque a opção correta:

- (A) 5,2,4 e 3
- (B) 6,2,4 e 3
- (C) 5,2,4 e 5
- (D) 5,3,4 e 7

GABARITO

[CLIQUE AQUI](#)

Nossos Sites e Blogs na Área de Educação:

Concursos e Seleções

<https://questoesconcursopedagogia.com.br/>

NOSSOS BLOGS - MATERIAIS PARA EDUCAÇÃO

Sala de Aula: <https://desafiosmate.com.br/>

Concursos/seleções: <https://questoesconcursopedagogia.com.br/>

Cursos gratuitos: <https://superpreparadocursos.com.br/>

Materiais de Sala de Aula - 1 ao 5 ano

<https://desafiosmate.com.br/>

**Cursos Gratuitos de Aperfeiçoamento e
Qualificação**

<https://superpreparadocursos.com.br/>

Nossas Mídias

Página no Facebook:

<https://www.facebook.com/desafiosmaticossaladeaula/>

Nosso Grupo no Facebook

<https://www.facebook.com/groups/467814469928014/>

Nosso Canal no Youtube:

<https://www.youtube.com/channel/UCZ3D5VBLZW1lacEE89nMJgg>

NOSSOS BLOGS - MATERIAIS PARA EDUCAÇÃO

Sala de Aula: https://desafiosmate.com.br/	Concursos/seleções: https://questoesconcursopedagogia.com.br/
Cursos gratuitos: https://superpreparadocursos.com.br/	