

Escola:	Data:
Professor(a):	Turma:
Aluno:	

Mais atividades e Materiais: <https://desafiosmate.com.br/>

## Atividade sobre Identificação Quadriláteros

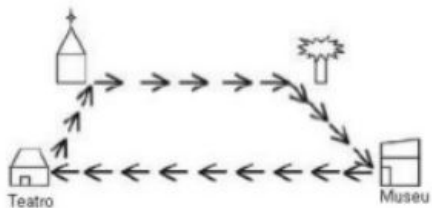
**Questão 1.** Veja as figuras abaixo:



O losango é a figura:

- (A) 1
- (B) 2
- (C) 3
- (D) 4

**Questão 2.** Chegando a uma cidade, Fabrício visitou a igreja local. De lá, ele se dirigiu à praçinha, visitando em seguida o museu e o teatro, retornando finalmente para igreja. Ao fazer o mapa do seu percurso, Fabrício descobriu que formava um quadrilátero com dois lados paralelos e quatro ângulos diferentes.



O quadrilátero que representa o percurso de Fabrício é um:

- (A) Quadrado
- (B) Trapézio
- (C) Losango
- (D) Retângulo

**Questão 3.** Sheyla usou linhas retas fechadas para

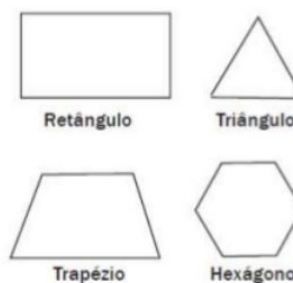
fazer este desenho.



Quantas figuras de 4 lados foram desenhadas?

- (A) 2
- (B) 3
- (C) 4
- (D) 5

**Questão 4.** Qual dos polígonos abaixo tem dois lados paralelos e dois não paralelos:



- (A) Retângulo
- (B) Triângulo
- (C) Trapézio
- (D) Hexágono

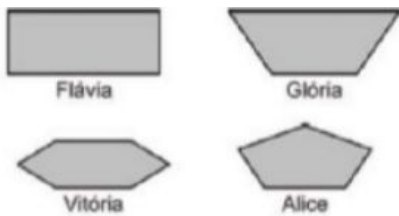
**Questão 5.** Aline e suas amigas desenharam algumas figuras geométricas:

### NOSSOS BLOGS - MATERIAIS PARA EDUCAÇÃO

Sala de Aula: <https://desafiosmate.com.br/>

Concursos/seleções: <https://questoesconcursopedagogia.com.br/>

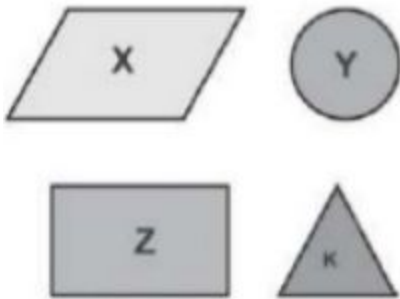
Cursos gratuitos: <https://superpreparadocursos.com.br/>



Quem fez o desenho de um retângulo?

- (A) Glória
- (B) Aline
- (C) Vitória
- (D) Flávia

**Questão 6.** Observe as figuras abaixo:



O retângulo está marcado com a letra?

- (A) K
- (B) Y
- (C) Z
- (D) X

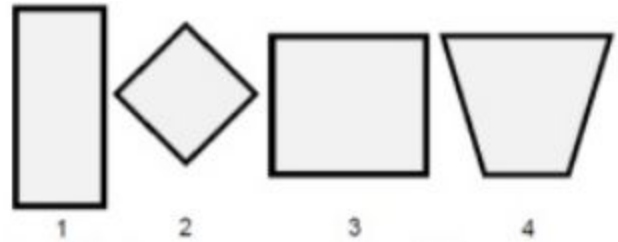
**Questão 7.** Observe o telhado da casa abaixo:



O seu formato lembra qual quadrilátero?

- (A) Quadrado
- (B) Trapézio
- (C) Triângulo
- (D) Retângulo

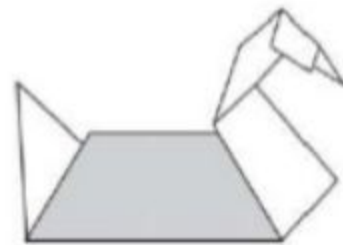
**Questão 8.** Uma fábrica produz espelhos de vários formatos. Observe algumas peças:



Qual par de espelhos possui seus lados com a mesma medida?

- (A) 1 e 2
- (B) 3 e 4
- (C) 2 e 3
- (D) 1 e 4

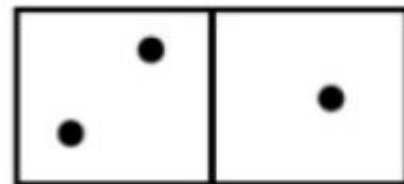
**Questão 9.** Lúcia está fazendo um curso de Dobradura. Ela fez um cisne usando duas cores de papel. Veja como ele ficou.



Lúcia percebeu que que a parte mais escura do cisne tem a forma de um?

- (A) Paralelogramo
- (B) Trapézio
- (C) Losango
- (D) Retângulo

**Questão 10.** A face superior das peças de um jogo de dominó tem formato de um quadrilátero. Observe a figura.



**NOSSOS BLOGS - MATERIAIS PARA EDUCAÇÃO**

Sala de Aula: <https://desafiosmate.com.br/>

Concursos/seleções: <https://questoesconcursopedagogia.com.br/>

Cursos gratuitos: <https://superpreparadocursos.com.br/>

Qual quadrilátero que melhor Caracteriza a face superior da peça de um jogo de dominó?

- (A) Trapézio
- (B) Retângulo
- (C) Losango
- (D) Quadrado

## GABARITO

[CLIQUE AQUI](#)

**Nossos Sites e Blogs na Área de Educação:**

**Concursos e Seleções**

<https://questoesconcursopedagogia.com.br/>

**Materiais de Sala de Aula - 1 ao 5 ano**

<https://desafiosmate.com.br/>

**Cursos Gratuitos de Aperfeiçoamento e Qualificação**

<https://superpreparadocursos.com.br/>

**Nossas Mídias**

**Página no Facebook:**

<https://www.facebook.com/desafiosmatematicossaladeaula/>

**Nosso Grupo no Facebook**

<https://www.facebook.com/groups/467814469928014/>

**Nosso Canal no Youtube:**

<https://www.youtube.com/channel/UCZ3D5VBLZW1lacEE89nMJgg>

## NOSSOS BLOGS - MATERIAIS PARA EDUCAÇÃO

Sala de Aula: <a href="https://desafiosmate.com.br/">https://desafiosmate.com.br/</a>	Concursos/seleções: <a href="https://questoesconcursopedagogia.com.br/">https://questoesconcursopedagogia.com.br/</a>
Cursos gratuitos: <a href="https://superpreparadocursos.com.br/">https://superpreparadocursos.com.br/</a>	