

Escola:	Data:
Professor(a):	Turma:
Aluno:	

Mais atividades e Materiais: <https://desafiosmate.com.br/>

### Atividade sobre Figuras Tridimensionais - planificações

**Questão 1.** Observando a figura abaixo, percebe-se a presença de várias formas geométricas. Qual forma aparece mais vezes:



- (A) Triângulo
- (B) Retângulo
- (C) Círculo
- (D) Quadrado

**Questão 2.** Renato cortou os pedaços de madeira abaixo:

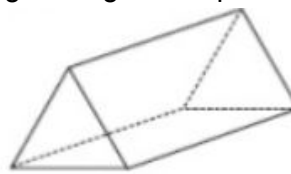


Qual das caixas ele pode construir com esses pedaços de madeira?

- (A) Caixa 1

- (B) Caixa 2
- (C) Caixa 3
- (D) Caixa 4

**Questão 3.** A figura seguinte representa um sólido:



Em qual das opções podem estar representada todas as faces do sólido?



1

2

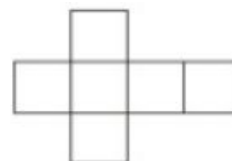


3

4

- (A) 1
- (B) 2
- (C) 3
- (D) 4

**Questão 4.** Montando a caixinha abaixo ela forma um:



### NOSSOS BLOGS - MATERIAIS PARA EDUCAÇÃO

Sala de Aula: <https://desafiosmate.com.br/>

Concursos/seleções: <https://questoesconcursopedagogia.com.br/>


Cursos gratuitos: <https://superpreparadocursos.com.br/>

- (A) Cilindro
- (B) Pirâmide
- (C) Paralelepipedo
- (D) Cubo

**Questão 5.** Quantos retângulos formam a caixa abaixo:

- (A) 3
- (B) 4
- (C) 6
- (D) 8

**Questão 6.** Observe os cartões abaixo:



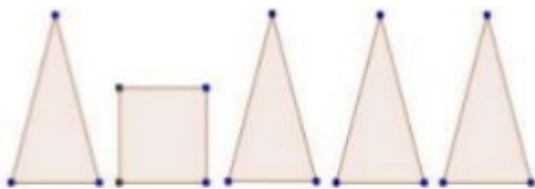
Usando cartões como esses e fitas adesivas marinha montou uma caixa com tampa. Veja abaixo.



Para montar essa caixa marinha precisou usar?

- (A) Um cartão X, Dois Y e Dois Z
- (B) Um cartão X, Dois Y e Um Z
- (C) Dois cartões X, Um Y e Dois Z
- (D) Dois cartões X, Dois Y e Um Z

**Questão 7.** Mariane fez algumas figuras planas em papel cartão, como mostra abaixo:



Ao juntar essas partes formam um sólido chamado:

- (A) Cone
- (B) Prisma
- (C) Pirâmide
- (D) Cilindro

**Questão 8.** Um cubo é formado de quantas faces:

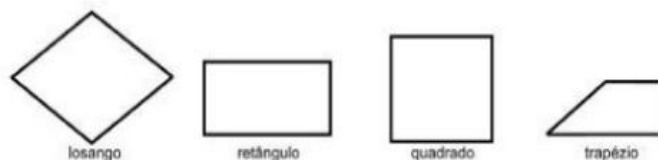
- (A) 10
- (B) 9
- (C) 8
- (D) 6

**Questão 9.** Matheus comprou um aquário para colocar peixinhos. Sabendo que a foto do aquário abaixo é de matheus, responda qual é a forma geométrica que aparece nas faces.



- (A) Círculos
- (B) Quadriláteros
- (C) Triângulos
- (D) Losangos

**Questão 10.** Ao escolher Lajotas para o piso de sua varanda, Dona Lúcia falou ao vendedor que precisava de lajotas que tivessem os quatro lados com as mesmas medidas.



Que lajotas o vendedor deve mostrar a Dona Lúcia?

- (A) Losango ou quadrado
- (B) Quadrado ou retângulo
- (C) Quadrado ou trapézio
- (D) Losango ou Trapézio

**GABARITO**

**NOSSOS BLOGS - MATERIAIS PARA EDUCAÇÃO**

Sala de Aula: <https://desafiosmate.com.br/>

Concursos/seleções: <https://questoesconcursopedagogia.com.br/>

Cursos gratuitos: <https://superpreparadocursos.com.br/>

[CLIQUE AQUI](#)

**Nossos Sites e Blogs na Área de Educação:**

**Concursos e Seleções**

<https://questoesconcursopedagogia.com.br/>

**Materiais de Sala de Aula - 1 ao 5 ano**

<https://desafiosmate.com.br/>

**Cursos Gratuitos de Aperfeiçoamento e Qualificação**

<https://superpreparadocursos.com.br/>

**Nossas Mídias**

**Página no Facebook:**

<https://www.facebook.com/desafiosmaticossaladeaula/>

**Nosso Grupo no Facebook**

<https://www.facebook.com/groups/467814469928014/>

**Nosso Canal no Youtube:**

<https://www.youtube.com/channel/UCZ3D5VBLZW1lacEE89nMJgg>

**NOSSOS BLOGS - MATERIAIS PARA EDUCAÇÃO**

Sala de Aula: <a href="https://desafiosmate.com.br/"><u>https://desafiosmate.com.br/</u></a>	Concursos/seleções: <a href="https://questoesconcursopedagogia.com.br/"><u>https://questoesconcursopedagogia.com.br/</u></a>
Cursos gratuitos: <a href="https://superpreparadocursos.com.br/"><u>https://superpreparadocursos.com.br/</u></a>	