

Escola: _____

Professor: _____ Turma: _____ Turno: _____

Aluno: _____

ATIVIDADES MATEMÁTICA

01. Adriano escreveu na blusa o algarismo 74.932. Qual o algarismo das unidades de milhar?

- a) 4
- b) 2
- c) 7
- d) 9

02. Quantas vezes usamos o algarismo 4 quando escrevemos todos os números de 1 a 14?

- a) 6 vezes
- b) 4 vezes
- c) 7 vezes
- d) 2 vezes

03. O número representado por sete centenas, cinco dezenas e oito unidades é:

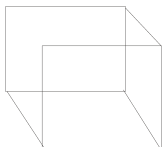
- a) 587
- b) 758
- c) 7058
- d) 857

04. A quantia de seis milhões, duzentos e oito mil e quatro reais é indicada por:

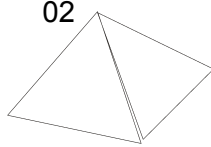
- a) 6.208.004
- b) 6.028.040
- c) 6.280.400
- d) 6.820.004

05. Juliana foi comprar cristais e o vendedor lhe mostrou algumas diferentes formas:

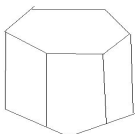
01



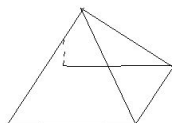
02



03



04



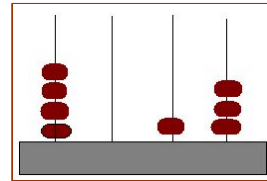
Ela se decidiu por duas pirâmides. Os cristais escolhidos foram:

- a) 1 e 2
- b) 2 e 3
- c) 2 e 4
- d) 3 e 4

06. O número 25.301 é igual a:

- a) $20.000 + 5.000 + 30 + 1$
- b) $20.000 + 5.000 + 300 + 1$
- c) $200.000 + 5.000 + 300 + 1$
- d) $20.000 + 500 + 30 + 1$


07. O número representado no ábaco é:



- a) 4.130
- b) 5.104
- c) 4.013
- d) 413

08. Observe a hora indicada no relógio abaixo. Se ele estivesse 25 minutos adiantado que horas seria exatamente?

- a) 5:15 h
- b) 5:25 h
- c) 4:35 h
- d) 5:20 h



09. Romário necessita comprar o material escolar mostrado abaixo,

Ele pretende fazer a compra em duas vezes. Quanto será?

CADERNO R\$ 15,00

LÁPIS R\$

8,00

Material Completo de matemática para 4º e 5º ano:

<http://desafiosmate.com.br/material-professor-4-e-5-ano>

BOLSA R\$ 25,00

APONTADOR E BORRACHA R\$ 1,00

a) R\$ 49,00

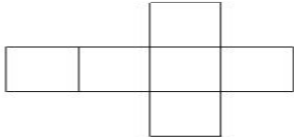
b) R\$ 50,00

c) R\$ 24,00

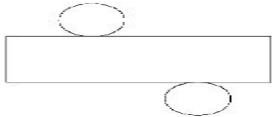
d) R\$ 18,60

10. Indique a que planificação corresponde a um cone:

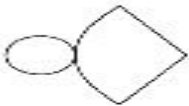
(1)



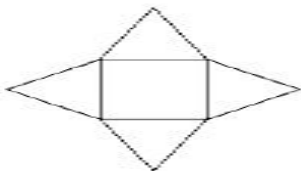
02)



(03)



(04)



<http://desafiosmate.com.br/>

GABARITO

1.a

2.d

3.b

4.a

5.c

6.b

7.c

8.b

9.a

10.2

[Pacote de Slides de Matemática e outros – CLIQUE AQUI](#)

[Materiais gratuitos de para Concurso – CLIQUE AQUI](#)

[Planilha de Avaliações De descritores – CLIQUE AQUI](#)

<http://desafiosmate.com.br/>