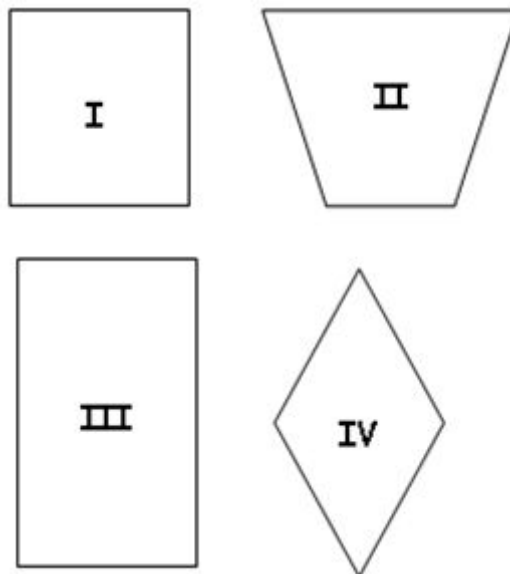


Escola: \_\_\_\_\_  
Professor(a): \_\_\_\_\_ Turma: \_\_\_\_\_ Turno: \_\_\_\_\_  
Aluno: \_\_\_\_\_

## Simulado de matemática do 5º ano

01. Observe as figuras geométricas abaixo:



Quais das figuras geométricas são quadrilátero retos?

- A. I e III
- B. I e II
- C. I e IV
- D. III e IV

02. Na lanchonete Bom Sabor tem o seguinte cardápio.

Sanduíche	Com suco	Com refrigerante
Hambúrguer	R\$ 1,50	R\$ 1,00
Cachorro quente	R\$ 2,50	R\$ 2,00
Misto quente	R\$ 1,80	R\$ 2,30

Maria pediu um cachorro quente com refrigerante e pagou

- A. R\$ 1,50
- B. R\$ 2,00

**Material Completo de matemática para 4º e 5º ano:**

<http://www.desafiosmate.com.br/material-professor-4-e-5-ano>

- C. R\$ 1,80
- D. R\$ 2,30

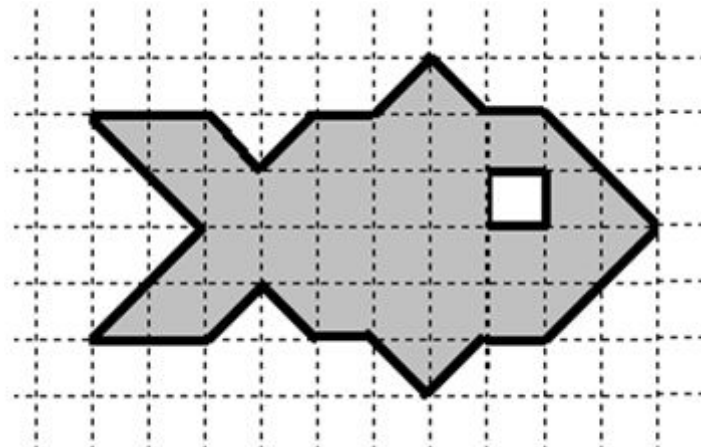
03. Juliana comprou um caderno por R\$ 2,80 e uma lapiseira por R\$ 3,20. Ela pagou com uma nota de R\$ 10,00, quanto sobrou de troco?

- A. R\$ 2,50
- B. R\$ 3,00
- C. R\$ 3,50
- D. R\$ 4,00

04. Pedro no dia que completou 7 anos ganhou 10 bolinhas de gude e ficou com 89. Quantas bolinhas de gude Pedro tinha antes de completar 7 anos?

- A. 75
- B. 83
- C. 79
- D. 99

05. Paulinho desenhou um peixe na malha quadriculadas como mostra a figura abaixo.



Considerando um quadradinho como unidade de área. A área da figura é

- A. 30
- B. 35
- C. 31
- D. 39

06. Tem-se o número

8 567

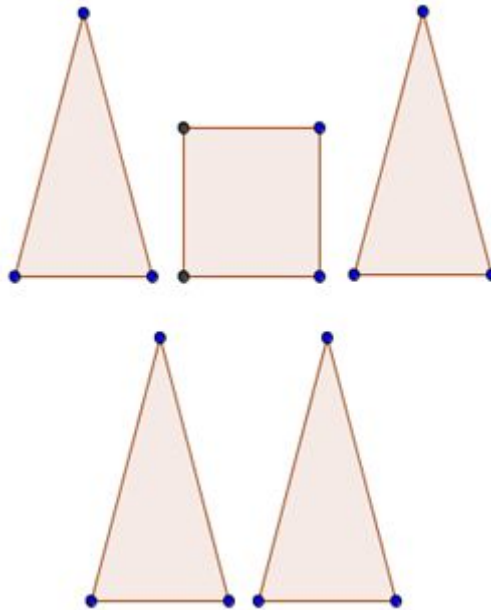
A ordem do algarismo 5 é

- A. 5
- B. 50
- C. 567
- D. 500

07. Juliana fez algumas figuras planas em papel cartão, como mostra abaixo.

**Material Completo de matemática para 4º e 5º ano:**

<http://www.desafiosmate.com.br/material-professor-4-e-5-ano>



Ao juntar todas essas partes formam o sólido chamado

- A. cone
- B. prisma
- C. cilindro
- D. pirâmide

08. A fração da parte colorida da figura é



- A.  $\frac{3}{7}$
- B.  $\frac{7}{3}$
- C.  $\frac{3}{10}$
- D.  $\frac{10}{3}$

09. A professora coloque o número 0,2 no quadro negro. Esse número em fração é

- A.  $\frac{2}{5}$
- B.  $\frac{2}{20}$
- C.  $\frac{2}{10}$
- D.  $\frac{0}{2}$

10. O algarismo que está na ordem da centena do número

8 543

- A. 8

**Material Completo de matemática para 4º e 5º ano:**

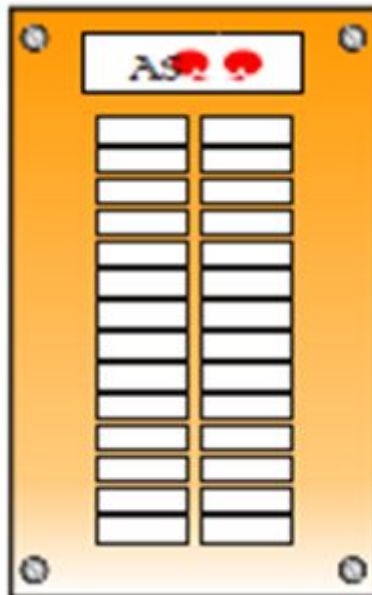
<http://www.desafiosmate.com.br/material-professor-4-e-5-ano>

- B. 5
- C. 4
- D. 3

11. Numa escola, o total de alunos matriculados no 5ª ano é igual a 280. Desse total, 95 alunos estudam no período da manhã. O número de alunos que estudam no 5ª ano dessa escola no período da tarde é:

- A. 95
- B. 185
- C. 195
- D. 375

12. O painel dos botões com os números dos andares no elevador de um edifício está organizado em 2 colunas e 14 linhas, conforme a figura abaixo.



Quantos botões têm neste painel?

- A. 28
- B. 18
- C. 16
- D. 14

## Simulado de matemática do 5º ano

### GABARITO

- 01. A
- 02. B
- 03. D
- 04. C
- 05. C
- 06. D
- 07. D
- 08. C
- 09. C
- 10. B
- 11. B
- 12. A