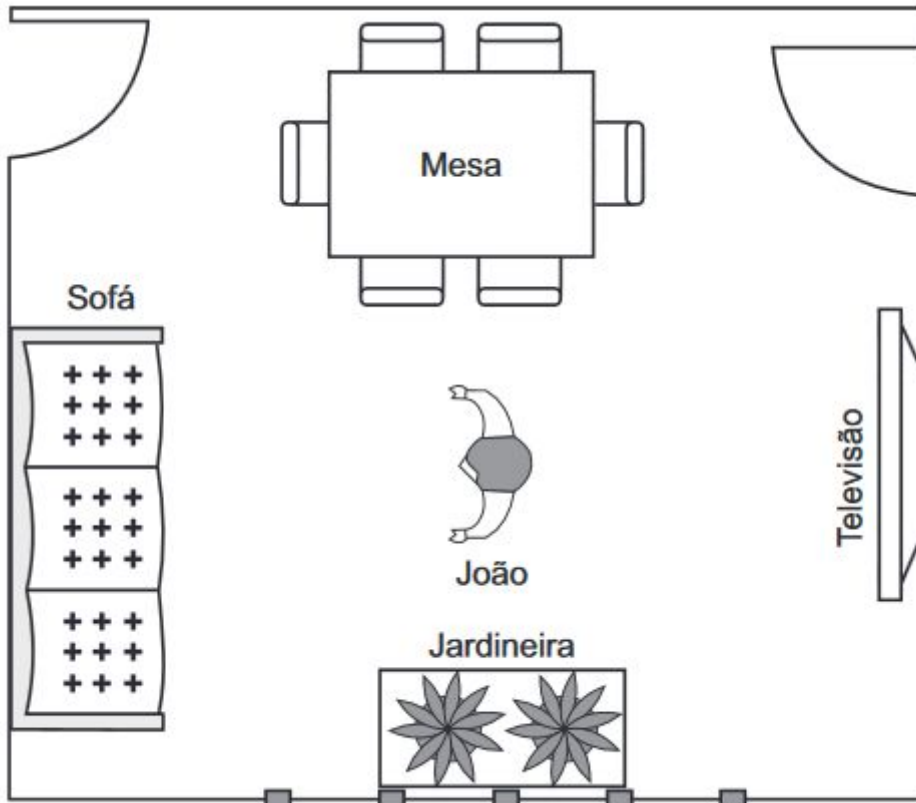


Escola: _____
Professor(a): _____ Turma: _____ Turno: _____
Aluno: _____

Avaliação diagnóstica de matemática de 5º ano - 2º Bimestre

01) O desenho abaixo mostra João na sala de sua casa.



De acordo com esse desenho, qual objeto está à direita de João?

- A) Jardineira.
- B) Mesa.
- C) Sofá.
- D) Televisão

02) Observe a conta abaixo.

$$69 + 3$$

O resultado dessa conta é

- A) 23
- B) 32
- C) 66
- D) 72

03) O relógio abaixo indica o horário que começou o desenho animado que Sandra assistiu.



Em qual horário começou esse desenho animado?

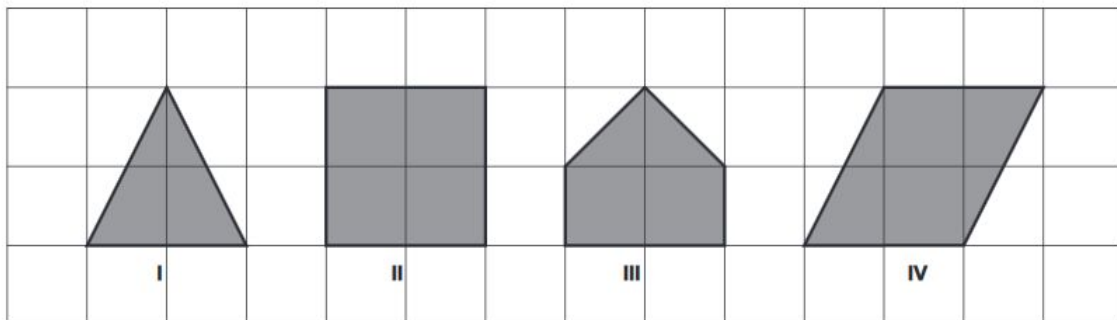
- A) 6 horas e 8 minutos.
- B) 6 horas e 40 minutos.
- C) 8 horas e 6 minutos.
- D) 8 horas e 30 minutos.

04) O Pico da Bandeira e o Pico do Cristal, ambos situados em Minas Gerais, são dois dos picos mais altos do Brasil. O Pico da Bandeira tem 2 892 metros de altura e o Pico do Cristal tem 2 769 metros de altura.

O Pico da Bandeira é quantos metros mais alto do que o Pico do Cristal?

- A) 112
- B) 123
- C) 133
- D) 137

05) Observe as figuras em cinza na malha quadriculada abaixo.



Qual dessas figuras é um triângulo?

- A) I
- B) II
- C) III
- D) IV

06) Observe o número no quadro abaixo.

389

Uma das decomposições desse número é

- A) $3 + 8 + 9$
- B) $30 + 8 + 9$
- C) $30 + 80 + 9$
- D) $300 + 80 + 9$

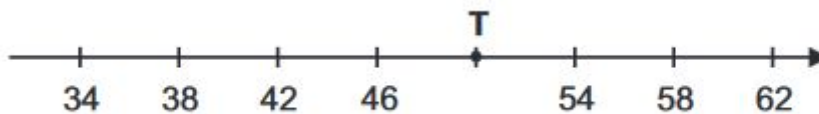
07) Observe, na tabela abaixo, a capacidade máxima das quatro salas de um cinema.

Salas do cinema	Quantidade de pessoas
Sala 1	235
Sala 2	332
Sala 3	254
Sala 4	287

De acordo com essa tabela, quantas pessoas cabem, no máximo, na sala 3 desse cinema?

- A) 235
- B) 254
- C) 287
- D) 332

08) Observe a reta numérica abaixo. Ela está dividida em partes iguais.



O ponto T representa que número nessa reta?

- A) 47
- B) 48
- C) 50
- D) 53

09) Observe a conta abaixo.

$652 + 39$

Qual é o resultado dessa conta?

- A) 681
- B) 691

- C) 1 042
- D) 6 811

10) Observe abaixo a altura da cadeira que Nicole comprou.



A altura dessa cadeira em milímetros é

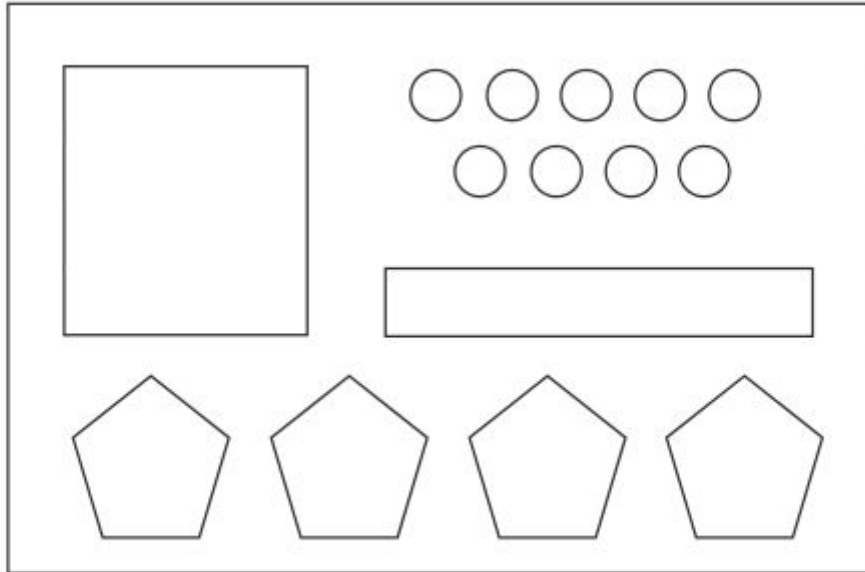
- A) 1,091
- B) 10,91
- C) 109,1
- D) 1 091

11) Mateus estuda em uma escola na Avenida Joaquim Santos número dois mil duzentos e quarenta e nove.

Qual é o número da escola onde Mateus estuda?

- A) 2 049
- B) 2 209
- C) 2 249
- D) 2 429

12) Para construir o cartão de participação em uma gincana, Roberto utilizou 16 figuras geométricas.



Quantos pentágonos Roberto utilizou para construir esse cartão?

- A) 3
- B) 4
- C) 7
- D) 9





13) Miriam distribuiu igualmente 80 salgados em 5 bandejas.
Quantos salgados ela colocou em cada bandeja?

- A) 85
- B) 80
- C) 75
- D) 16

14) Nilton trocou as notas e moedas abaixo por uma única nota de mesmo valor.



Qual nota Nilton recebeu nessa troca?

- A) 
- B) 
- C) 
- D) 

15) Observe o número no quadro abaixo.

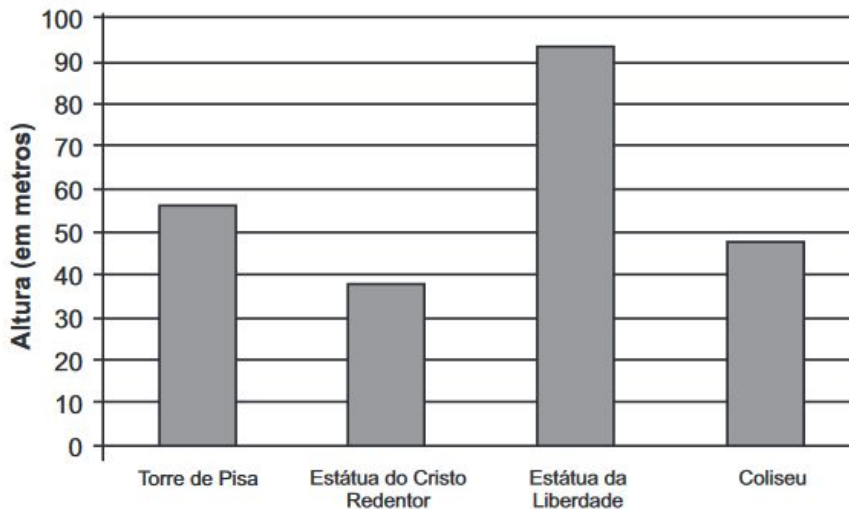
4 268

Esse número tem quantas centenas?

- A) 42
B) 40
C) 4
D) 2

16) O gráfico abaixo apresenta a altura de quatro importantes monumentos do mundo.

Material Completo de matemática para 4º e 5º ano:



De acordo com esse gráfico, qual desses monumentos é o menor?

- A) Torre de Pisa.
- B) Estátua do Cristo Redentor.
- C) Estátua da Liberdade.
- D) Coliseu.


17) Observe abaixo os preços das roupas que Fernanda comprou em uma loja.



Quanto Fernanda pagou, no total, por essa compra?

- A) R\$ 50,00
- B) R\$ 75,50
- C) R\$ 95,00
- D) R\$ 95,50

18) Observe, no relógio abaixo, o horário que Tiago almoça todos os dias.



Em qual horário Tiago almoça todos os dias?

- A) 12 horas.
- B) 12 horas e 30 minutos.
- C) 18 horas.
- D) 18 horas e 12 minutos.

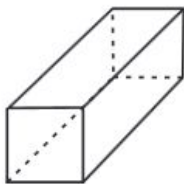
19) Observe a conta abaixo.

$$291 - 123$$

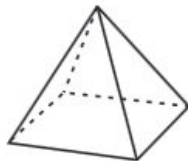
Qual é o resultado dessa conta?

- A) 168
- B) 172
- C) 178
- D) 414

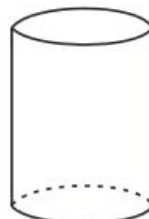
20) Observe os sólidos geométricos abaixo.



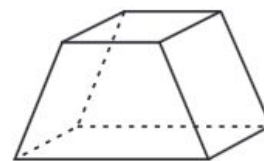
I



II



III



IV

Qual desses sólidos é um corpo redondo?

- A) I
- B) II

- C) III
- D) IV

21) Observe a conta abaixo.

$$\begin{array}{r} 42 \\ \times 4 \\ \hline \end{array}$$

O resultado desta conta é

- A) 46
- B) 48
- C) 128
- D) 168

22) Felipe cursou o ensino médio em 3 anos.
Em quantos meses Felipe cursou o ensino médio?

- A) 36
- B) 30
- C) 15
- D) 12