

Escola: \_\_\_\_\_  
Professor(a): \_\_\_\_\_ Turma: \_\_\_\_\_ Turno: \_\_\_\_\_  
Aluno: \_\_\_\_\_

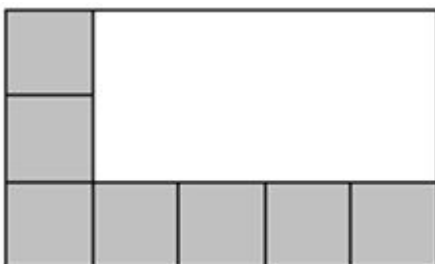
**Simulado.IV Questões de matemática 5º ano**

1. Quantos metros Cacá passeia com seu cachorro, no percurso da casa para o parque, sabendo que cada lado de um quadrado representa 1 m?



- A) 18 m
- B) 20 m
- C) 22 m
- D) 24 m

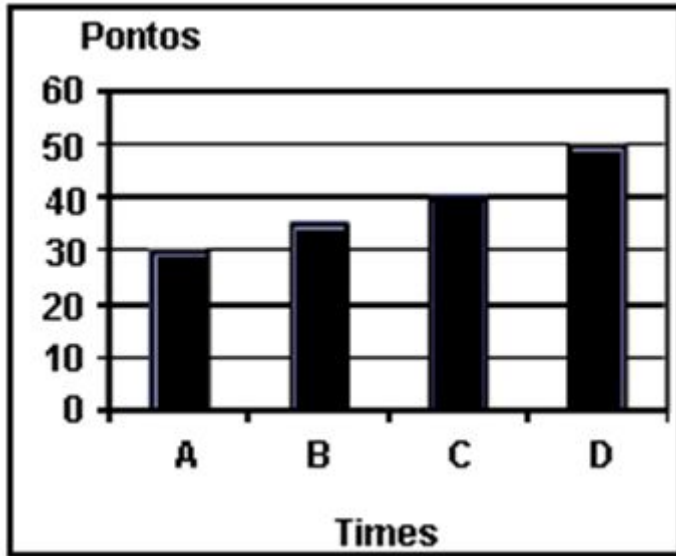
2. O piso de uma sala está sendo coberto por cerâmica quadrada. Já foram colocadas 7 cerâmicas, como mostrado na figura.



Quantas cerâmicas faltam para cobrir o piso?

- A) 7
- B) 8
- C) 9
- D) 15

3. O gráfico abaixo mostra a quantidade de pontos feitos pelos times A, B, C e D no campeonato de futebol da escola.



De acordo com o gráfico, quantos pontos o time C conquistou?

- A) 50
- B) 40
- C) 35
- D) 30

4. Observe na Tabela abaixo o número de celulares vendidos no primeiro semestre de 2007.

Meses	Nº de aparelhos vendidos
Janeiro	1.200
Fevereiro	2.420
Março	1.580
Abril	2.800
Maio	3.200
Junho	2.500

A diferença entre o número de celulares vendidos nos meses de maior e menor venda foi:

- A) 6 000
- B) 4 400
- C) 2 000
- D) 400

5. Para montar um sanduíche, tenho disponíveis os seguintes ingredientes:



PÃES	RECHEIO	VERDURA LEGUME
De forma	Queijo	Alface
De leite	Presunto	Tomate

De quantas formas diferentes poderia montar meu sanduíche, combinando um ingrediente de cada coluna?

- A) 8
- B) 12
- C) 16
- D) 18

6. O dono da padaria trocou R\$ 7,00 por moedas de R\$ 0,25. Quantas moedas ele recebeu?

- A) 14
- B) 21
- C) 28
- D) 35

7. O resultado de  $848 \div 8$  é

- A) 126
- B) 116
- C) 106
- D) 196

8. Uma viagem ao redor do mundo foi feita em 2 anos e 26 dias. Se 1 ano tem 365 dias, quantos dias durou essa viagem?

- A) 620 dias
- B) 630 dias
- C) 730 dias
- D) 756 dias

9.. Maria está olhando pela janela. O que ela vê à direita da estrada?



- A) Um barco e uma casa.
- B) Um cachorro e uma casa.
- C) Uma árvore e um guarda-sol.
- D) Um surfista e um barco.

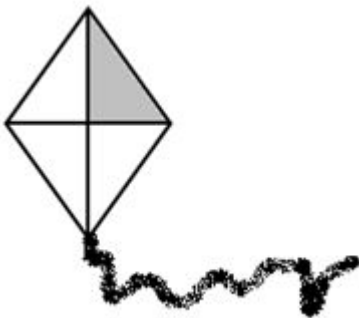
10. Dona Clara está fazendo bolinhos de 60 g cada um. Quantos desses bolinhos ela fará com 1,2 kg de massa?

- (A) 20
- (B) 50
- (C) 72
- (D) 200

11. O comprimento de uma mesa é de 1m. Quantos palmos aproximadamente mede a mesa se, em média, um palmo tem 22 cm?

- (A) 4 palmos
- (B) 4 palmos e meio
- (C) 5 palmos
- (D) 5 palmos e meio

12. Joãozinho gosta construir pipas.



Para a pipa acima, ele pintou uma parte de cinza. A parte pintada é

A)  $\frac{3}{4}$

B)  $\frac{4}{3}$

C)  $\frac{4}{1}$

D)  $\frac{1}{4}$