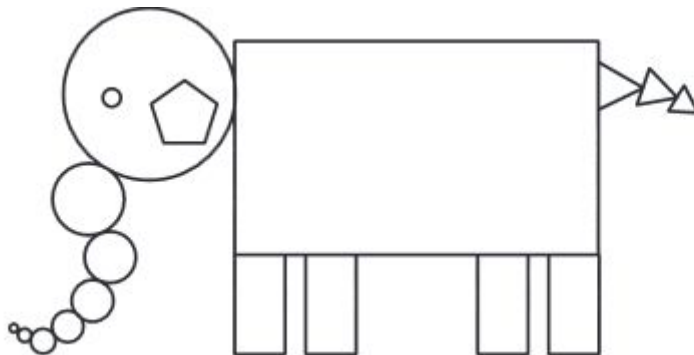


Escola: _____
Professor(a): _____ Turma: _____ Turno: _____
Aluno: _____

Simulado 2. Avaliação diagnóstica de matemática de 5º ano - 1º Bimestre

01) Ana usou 18 figuras geométricas para desenhar o elefante abaixo.



Quantos retângulos ela usou para desenhar esse elefante?

- A) 1
- B) 3
- C) 5
- D) 9

02) Letícia tem 13 lápis, Fernanda tem 7 e Camila tem 9.

Quantos lápis as três têm juntas?

- A) 16
- B) 20
- C) 22
- D) 29

03) Observe o relógio abaixo.



Material Completo de matemática para 4º e 5º ano:

<http://www.desafiosmate.com.br/material-professor-4-e-5-ano>

Qual é a hora que esse relógio está marcando?

- A) 05h06min
- B) 05h30min
- C) 06h05min
- D) 06h27min

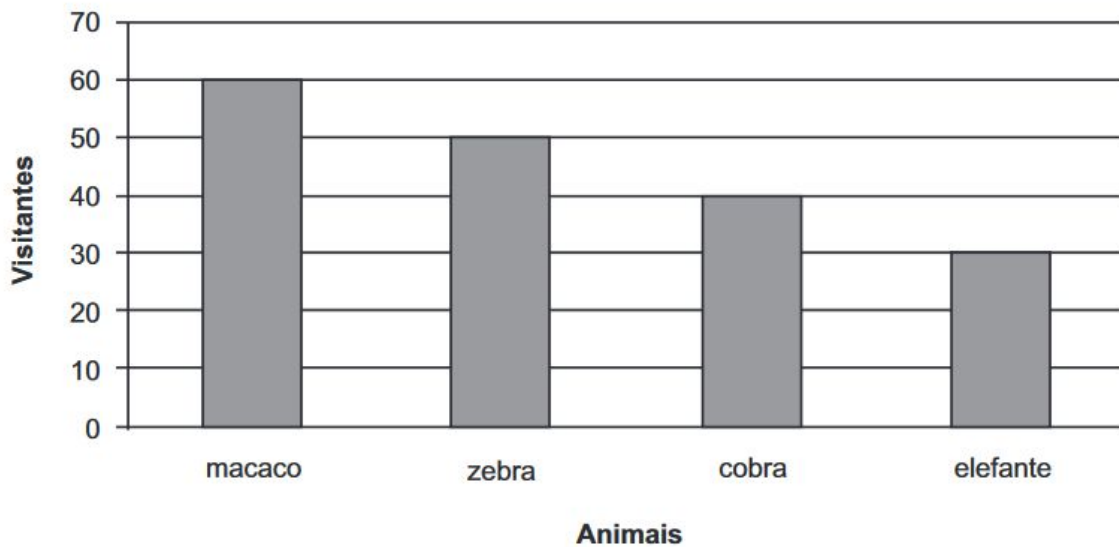
04) Observe abaixo uma das decomposições de um número.

$$2 \times 100 + 5 \times 10 + 3$$

Essa é a decomposição de qual número?

- A) 21005103
- B) 215103
- C) 2 513
- D) 253

05) O gráfico abaixo mostra a quantidade de pessoas que visitaram alguns animais de um zoológico no último final de semana.



De acordo com esse gráfico, quantas pessoas visitaram o elefante?

- A) 30
- B) 40
- C) 50
- D) 60

06) Observe abaixo as moedas que Marcelo tirou do cofrinho para trocar por uma nota.



Qual nota Marcelo recebeu nessa troca?



07) Observe a conta abaixo.

$$61 + 9$$

Qual é o resultado dessa conta?

- A) 52
- B) 70
- C) 549
- D) 619

08) Observe as figuras desenhadas abaixo.

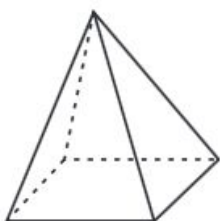


Figura 1

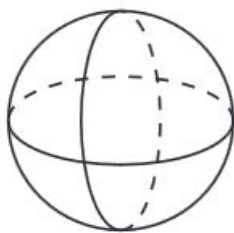


Figura 2

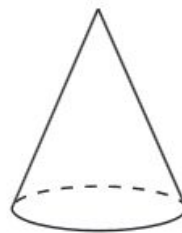


Figura 3

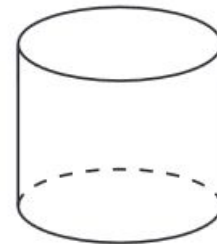


Figura 4

Qual dessas figuras é um poliedro?

Material Completo de matemática para 4º e 5º ano:

- A) Figura 1.
- B) Figura 2.
- C) Figura 3.
- D) Figura 4.

09) Observe abaixo o preço do sorvete.



Luciana comprou um sorvete e pagou com uma nota de R\$ 20,00.

O troco que Luciana recebeu nessa compra foi

- A) R\$ 21,90
- B) R\$ 19,10
- C) R\$ 18,10
- D) R\$ 18,00

10) A distância da casa de Luisa ao clube é de 1 km.

Essa distância, em metros, é igual a

- A) 1
- B) 10
- C) 100
- D) 1 000

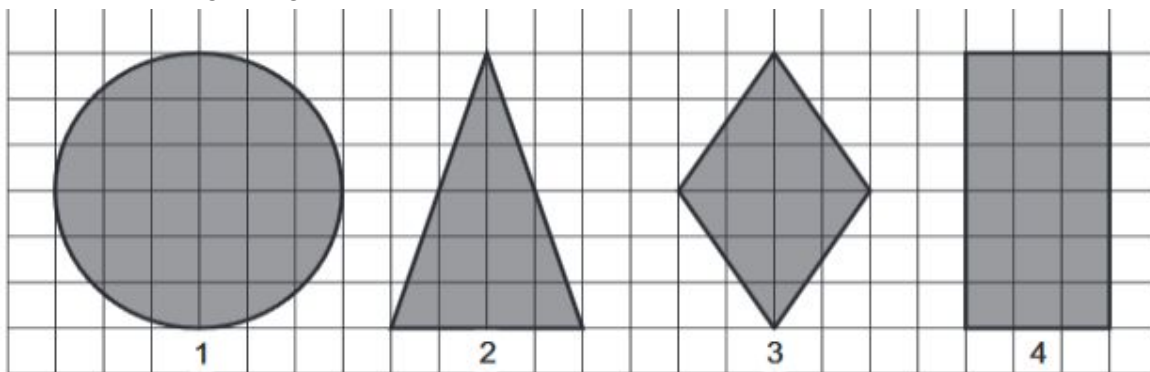
11) Observe abaixo a tabela de preços de alguns materiais escolares vendidos em uma loja.

Material escolar	Preço
Caderno	R\$ 9,50
Lápis	R\$ 2,50
Borracha	R\$ 1,50
Apontador	R\$ 3,50
Régua	R\$ 3,90

Nessa tabela, qual é o preço do apontador?

- A) R\$ 1,50
- B) R\$ 3,50
- C) R\$ 3,90
- D) R\$ 9,50

12) Observe as figuras geométricas desenhadas na malha quadriculada abaixo.



Qual dessas figuras é um losango?

- A) 1
- B) 2
- C) 3
- D) 4

13) Laura comprou um vestido que custou 98 reais.

Quantos reais custou esse vestido de Laura?

- A) Noventa.
- B) Noventa e oito.
- C) Oitenta.
- D) Oitenta e nove.

14) Observe o número no quadro abaixo.

9 409

Qual é a ordem ocupada pelo algarismo 4 nesse número?

Material Completo de matemática para 4º e 5º ano:

<http://www.desafiosmate.com.br/material-professor-4-e-5-ano>

- A) Centena.
- B) Dezena.
- C) Unidade.
- D) Unidade de Milhar.

15) Pedro foi a uma partida de futebol de seu time favorito. Ele comprou o ingresso com duas semanas de antecedência.

Pedro comprou esse ingresso com quantos dias de antecedência?

- A) 10
- B) 14
- C) 20
- D) 48

16) Paulo comprou 10 embalagens de refrigerantes com 6 garrafas em cada uma.

Quantas garrafas de refrigerante ele comprou?

- A) 6
- B) 16
- C) 10
- D) 60

17) Observe abaixo a decomposição de um número.

$5\ 000 + 300 + 1$

Essa é uma das decomposições do número

- A) 531
- B) 5 031
- C) 5 301
- D) 50003001

18) Observe no quadro abaixo as preferências por gêneros musicais dos estudantes da classe de Caio.

GÊNERO	NÚMERO DE ESTUDANTES
Axé	3
Pagode	12
Samba	15
Sertanejo	5

De acordo com esse quadro, qual é o gênero musical preferido por 12 estudantes?

- A) Axé.
- B) Pagode.
- C) Samba.

D) Sertanejo.

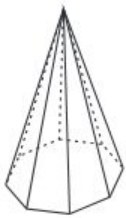
19) Observe a conta abaixo.

$$83 \times 100$$

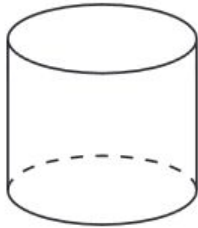
Qual é o resultado dessa conta?

- A) 830
- B) 831
- C) 8 300
- D) 8 310

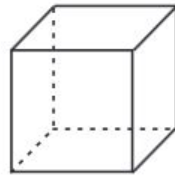
20) Observe os sólidos geométricos desenhados abaixo.



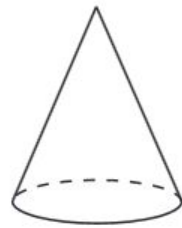
I



II



III



IV

Quais desses sólidos são corpos redondos?

- A) I e II.
- B) I e III.
- C) II e III.
- D) II e IV.

21) Dos 95 contatos do celular de Carla, 45 são de familiares e o restante, de amigos. Quantos contatos de amigos ela tem registrado em seu celular?

- A) 95
- B) 50
- C) 45
- D) 40

22) Carlos verificou pelo computador que a distância de sua casa até a casa de seu avô é de 2 km.

Qual é a distância, em metros, da casa de Carlos até a casa de seu avô?

- A) 20
- B) 200
- C) 1 000
- D) 2 000