

Escola: _____

Professor: _____ Turma: _____ Turno: _____

Aluno: _____

1. Escreva o nome completo.

2. Organizar os números na ordem.

7, 2, 10, 17, 3, 9
15, 1, 12, 16, 4, 8, 13
20, 5, 14, 6, 13, 11, 18


3. Completar com os numerais que estão faltando:

_____, _____, 3, _____, 5, 6, _____, 8, _____, 10, _____, 12,
13, _____, _____, 16, _____, 18, _____, 20.


4. Escrever os números que vêm antes e depois de:

____, _____, 3, _____, 5, 6, _____, 8, _____, 10, _____, 12,
13, _____, _____, 16, _____, 18, _____, 20.


5. Ligar os numerais as quantidades:



20



10



14

6. Circule somente os numerais:

ÍNDIO			

Baixar Atividades para educação Infantil e outras séries:

<http://desafiosmate.com.br/>

Baixar Materiais para Concurso Professor:

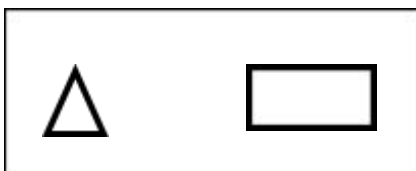
<http://questoesconcursopedagogia.com.br/>

			100
--	--	--	------------

7. **Contar e representar as quantidades:**

8. **Continuar a seqüência:**






9. **Marcar com “X” o retângulo, circule o triângulo e quadrado.**

Baixar Atividades para educação Infantil e outras séries:

<http://desafiosmate.com.br/>

Baixar Materiais para Concurso Professor:

<http://questoesconcursopedagogia.com.br/>



10. **Circular as gravuras menores, e marcar com “X” as maiores e pintar as que estão no meio.**

11. **Observar a gravura:**

Baixar Atividades para educação Infantil e outras séries:

<http://desafiosmate.com.br/>

Baixar Materiais para Concurso Professor:

<http://questoesconcursopedagogia.com.br/>