


Escola: _____

Professor: _____ Turma: _____ Turno: _____

Aluno: _____

1. Observe a figura.



Com quanto peso ficará o carrinho se colocarmos mais uma caixa de 84 quilos?

- a) 22 quilos.
- b) 84 quilos.
- c) 106 quilos.
- d) 190 quilos.

2. José tem 42 anos e seu filho tem 12. Qual a diferença de idade entre os dois?

- a) 12 anos
- b) 30 anos.
- c) 42 anos.
- d) 54 anos.

3. A conta de energia do mês de maio da casa de Vanessa foi de 78 reais. No mês de junho toda a família decidiu economizar e a conta custou 16 reais a menos. O valor da conta do mês de junho foi:

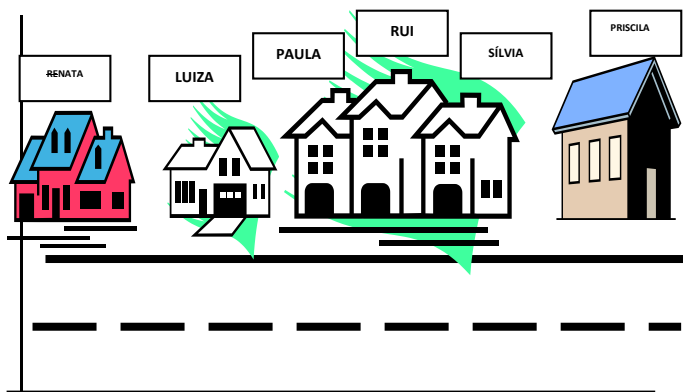
- a) 16 reais.
- b) 62 reais.
- c) 78 reais.
- d) 94 reais.

4. O resultado do cálculo abaixo é:

$$\begin{array}{r} 123 \\ + 81 \\ \hline \end{array}$$

- a) 104.
- b) 162.
- c) 204.
- d) 304.


5. Observe o desenho da Rua.



Quem mora entre a casa de Paula e Sílvia?

- a) Renata.
- b) Luiza.
- c) Rui.
- d) Priscila.

6. As figuras abaixo são:



- a) Cilindro círculo e cone.
- b) Cilindro, esfera e circunferência.
- c) Círculo, cone e esfera.
- d) Cilindro, cone e circunferência.

7. Na escola Jacira Mendes Oliveira estuda 140 meninos e 126 meninas. Qual é a diferença entre o número de meninas e o número de meninos?

- a) 26
- b) 140
- c) 14
- d) 566

8. Adriana comprou 3 sacos de balas, em cada saco havia 210 balas. Qual o total de balas que Adriano comprou?

- a) 420 balas
- b) 620 balas
- c) 348 balas
- d) 630 balas

9. Ricardo ganhou uma dúzia e meia de bananas para distribuir entre ele e seus dois irmãos. Quantas bananas irá ganhar cada um?

- a) 12 bananas
- b) 18 bananas
- c) 6 bananas
- d) 9 bananas

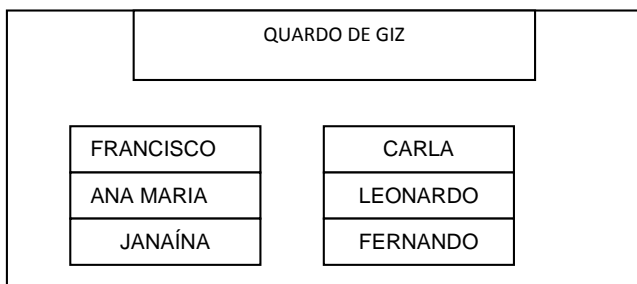
10. Patrícia e Carla são irmãs a idade de Patrícia é a soma das letras dos nomes das duas. A idade de Patrícia é:

- a) 13 anos
- b) 14 anos
- c) 20 anos
- d) não tem resposta

11. O Pai de Michele tem 32 anos, já o seu avô tem o triplo da idade dele. Quantos anos tem o avô de Michele?

- a) 64 anos
- b) 96 anos
- c) 66 anos
- d) 94 anos

12. Observe a sala de aula abaixo:



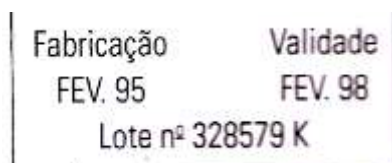
Quem está mais perto do quadro de giz?

- a) Francisco e Leonardo
- b) Ana Maria e Fabiano
- c) Francisco e Carla
- d) Janaína e Fernanda

13. Em uma sala de aula tem 24 alunos. A professora quer formar grupos de 4 alunos. Quantos grupos ela vai formar?

- a) 4 grupos
- b) 20 grupos
- c) 28 grupos
- d) 6 grupos

14. Abaixo está o lote de um remédio. De acordo com a imagem, qual o prazo de validade do medicamento?



- a) Junho de 1998
- b) Fevereiro de 1996
- c) Fevereiro de 1999
- d) Fevereiro de 1998

15. Diego nasceu no dia 13 de Agosto de 1998. Em 2007 Diego fez quantos anos?

- a) 10
- b) 09
- c) 08
- d) 11

16. Um comerciante comprou um relógio por R\$ 40,50 e revendeu-o por R\$ 49,70. Qual o lucro obtido?

- a) R\$ 8,30
- b) R\$ 9,20
- c) R\$ 8,20
- d) R\$ 7,90

17. (D15) A quantia de nove milhões, trezentos e oito mil e quatro é indicada por:

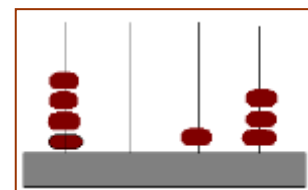
- a) 9.308.004
- b) 9.038.040
- c) 9.380.400
- d) 9.830.004

18. (D16) O número 34.601 é igual a:

- a) $30.000 + 4.000 + 60 + 1$
- b) $30.000 + 4.000 + 600 + 1$
- c) $300.000 + 4.000 + 600 + 1$
- d) $30.000 + 400 + 60 + 1$

19. (D15) O número representado no ábaco é:

- a) 4.130
- b) 5.104
- c) 4.013
- d) 413



20. (D9) Observe a hora indicada no relógio abaixo. Se ele estivesse 35 minutos adiantado que horas seria exatamente?

- a) 5h: 15 min
- b) 5h: 25 min
- c) 4h: 35 min
- d) 5h: 35 min

